
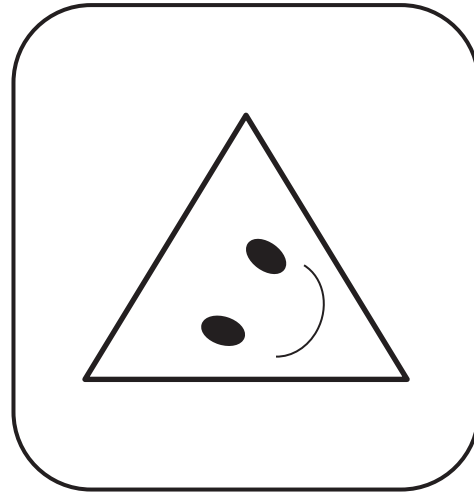



コグ トレ 鏡映し-1

名前 ( 年 月 日 )

ま なか 真ん中の2つのパネルが、 かがみ すいめん うつ 鏡と水面に映ったらそれぞれどう見えるでしょうか。 そうぞう か 想像して描きましょう。



かがみ 鏡

すいめん 水面

すいめん 水面

かがみ 鏡